



INVESTICE DO ROZVOJE VZDĚLÁVÁNÍ



*Gymnázium Vysoké Mýto*  
nám. Vaňorného 163, 566 01 Vysoké Mýto

A satellite map of France and its surrounding regions, including parts of the United Kingdom, Ireland, and the Alps. The map shows the coastline, major cities, and geographical features like the Pyrenees and the Alps. The text is overlaid on the map.

# Le quiz sur la France

Êtes-vous forts en géographie de  
la France ?

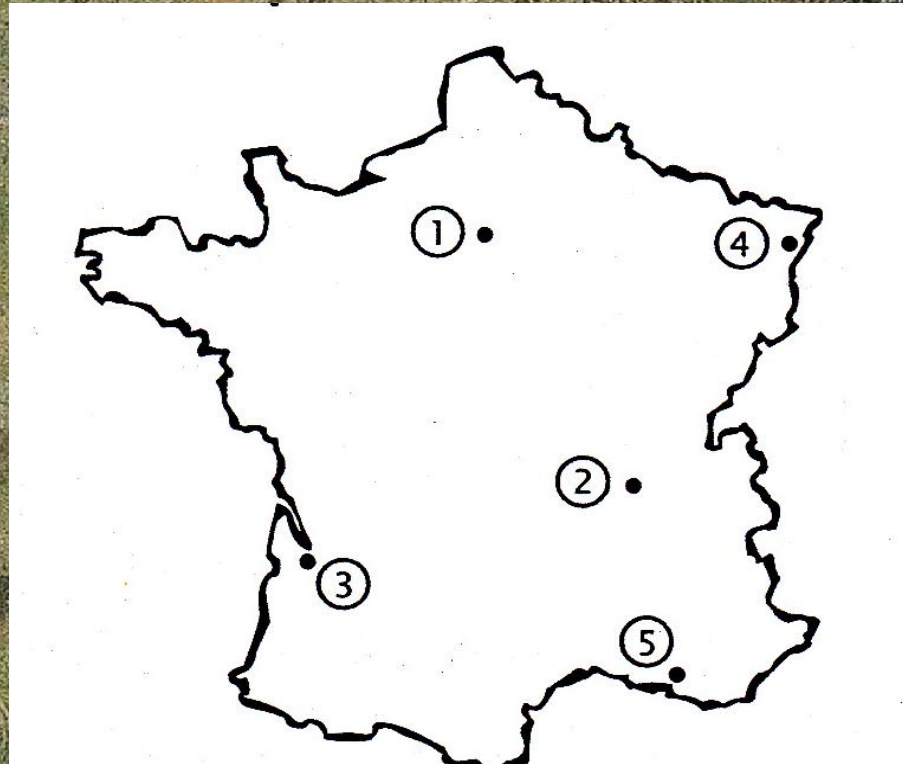
# 1. Complétez avec les mots proposés.

- **montagne, mer, hexagone, océan Atlantique, Manche**

1. La carte de France a la forme d'un \_\_\_\_\_
2. En région parisienne, il n'y a pas de \_\_\_\_\_
3. En Alsace, il n'y a pas la \_\_\_\_\_
4. La ville de Perpignan n'est pas au bord de l' \_\_\_\_\_
5. La Basse-Normandie se situe au bord de la \_\_\_\_\_

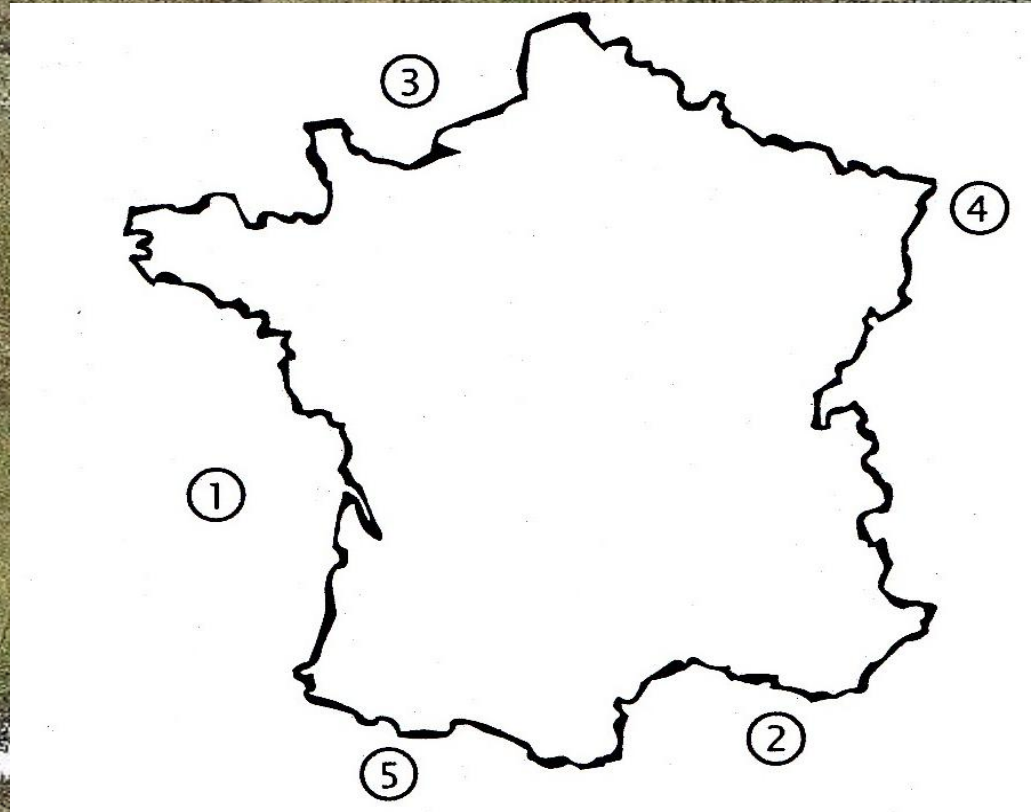
2. Associez les numéros indiqués sur la carte aux noms de ville.

- **Lyon, Bordeaux, Paris, Strasbourg, Marseille**



3. Associez les numéros indiqués sur la carte aux différents propositions.

- la Méditerranée, la Manche, l'Espagne, l'Allemagne / la Suisse / l'Italie, l'océan Atlantique

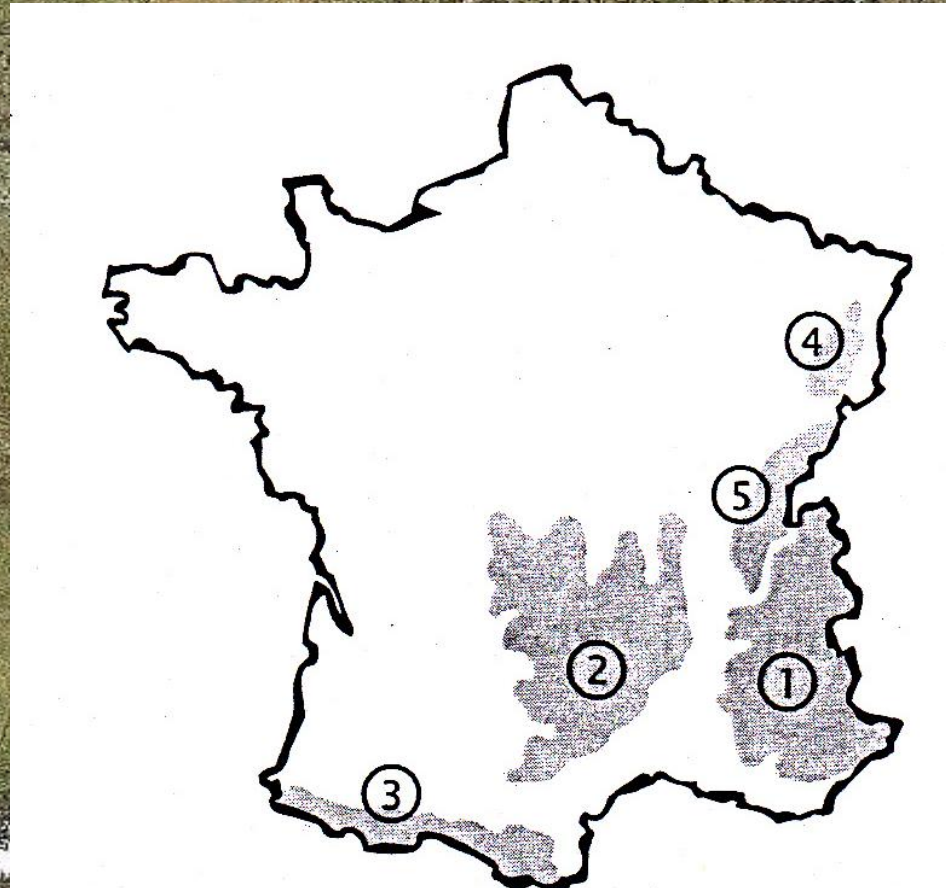


## 4. Répondez en complétant les mots.

1. Quelle est la plus grande ville au bord de la Méditerranée ? \_ A \_ \_ E \_ LL \_
2. Quel est le plus haut sommet français ?  
L \_ \_ \_ \_ T B \_ \_ \_ C
3. Quel fleuve traverse Paris ? L \_ \_ \_ E \_ N \_
4. Quelle ville le Rhin traverse – t – il ? \_ T  
\_ \_ \_ \_ B \_ U \_ G
5. Quel île se situe juste en dessus de la côte méditerranéenne ? L \_ \_ \_ R \_ E

5. Associez les numéros indiqués sur la carte aux noms de montagnes.

- Alpes, Pyrénées, Vosges, Massif central , Jura

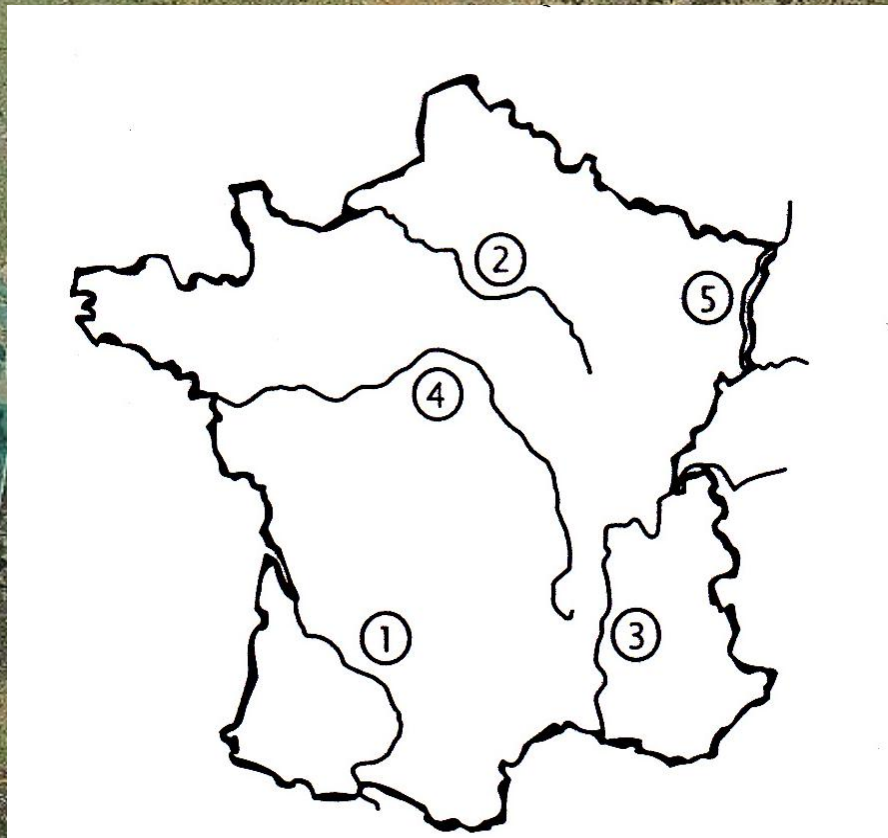


## 6. Rayez l'intrus

1. Manche – Loire – Méditerranée – océan Atlantique
2. Rhône – Garonne – Rhin – mer du Nord – Seine
3. Bassin aquitain – Jura – Alpes – Pyrénées – Massif central
4. Luxembourg – Suisse – Allemagne – Espagne – Corse
5. Martinique – Réunion – Saint-Barthélemy – Guadeloupe

## 7. Associez les numéros indiqués sur la carte aux fleuves.

- Garonne, Seine, Rhin, Rhône, Loire





## 8. Cochez vrai ou faux.

1. La Loire prend sa source dans les Alpes.
2. La Seine se jette dans la Méditerranée.
3. La France a une frontière avec l'Autriche.
4. Les Pyrénées sont au sud de la France.
5. La Normandie est un département.

## 9. Cochez la bonne réponse puis complétez.

- Dans l'ensemble, le climat français est \_\_\_\_\_  
tempéré, tropical, sibérien

- La \_\_\_\_\_ est réputée pour la douceur de son climat toute l'année.

côte bretonne, côte d'Azur, côte de la Manche

- En \_\_\_\_\_ il pleut souvent.

Provence, Corse, Bretagne

- Le \_\_\_\_\_ n'est pas un vent méditerranéen.  
sirocco, mistral, tramontane

- L'hiver, il fait très froid \_\_\_\_\_  
en haute Savoie, sur la côte d'Azur, en Corse

# 10. Complétez

- Paris est la \_\_\_\_\_ de la France.
- Il y a 60 millions d'\_\_\_\_\_ en France.
- La France a une \_\_\_\_\_ avec l'Espagne.
- Le Rhône est un \_\_\_\_\_.
- La Provence est une \_\_\_\_\_.



Les corrigés du quiz

A satellite map of France and its surrounding regions, including parts of the British Isles, the Atlantic Ocean, the Mediterranean Sea, and the Alps. The map shows the geographical context of the statements listed.

1.

1. La carte de France a la forme d'un **hexagone**.
2. En région parisienne, il n'y a pas de **montagne**.
3. En Alsace, il n'y a pas la **mer**.
4. La ville de Perpignan n'est pas au bord de l'**océan Atlantique**.
5. La Basse-Normandie se situe au bord de la **Manche**.

A topographic map of France and surrounding regions, showing elevation with green for lowlands and brown for highlands. The map includes the Atlantic Ocean to the west, the Mediterranean Sea to the south, and the Alps and Pyrenees mountain ranges. A list of five cities is overlaid on the left side, and a large number '2.' is in the upper right.

2.

1. Paris

2. Lyon

3. Bordeaux

4. Strasbourg

5. Marseille

An aerial photograph of Western Europe, showing the Atlantic Ocean to the west, the Mediterranean Sea to the south, and the English Channel to the north. The land is covered in green vegetation, with some snow-capped mountain ranges visible in the south and east. The number '3.' is written in the upper right quadrant of the image.

3.

1. l'océan Atlantique

2. la Méditerranée

3. la Manche

4. l'Allemagne /la Suisse / l'Italie

5. l'Espagne

An aerial photograph of France, showing the coastline, major cities, and mountain ranges. The number '4.' is placed in the upper right quadrant, over the eastern part of the country. A list of five locations is on the left side of the image.

4.

1. MARSEILLE

2. LE MONT BLANC

3. LA SEINE

4. STRASBOURG

5. LA CORSE

A topographic map of France showing various mountain ranges and regions. The map uses color to indicate elevation, with green for lower altitudes and brown for higher altitudes. Snow-capped peaks are visible in the Alps and Pyrenees. The Mediterranean Sea is on the left, and the Atlantic Ocean is on the right. A list of five regions is overlaid on the left side of the map.

5.

1. Alpes

2. Massif central

3. Pyrénées

4. Vosges

5. Jura

A topographic map of France and its surrounding regions. The map shows various geographical features including the Atlantic Ocean to the west, the English Channel to the north, and the Mediterranean Sea to the south. Numbered labels are placed on the map: 1. Loire (in the northwest), 2. mer du Nord (in the north), 3. Bassin aquitain (in the southwest), 4. Corse (in the south), 5. Saint-Barthélemy (in the south), and 6. (in the northeast).

6.

1. Loire

2. mer du Nord

3. Bassin aquitain

4. Corse

5. Saint-Barthélemy

A topographic map of Western Europe, showing the Atlantic Ocean to the west, the English Channel to the northwest, and the Mediterranean Sea to the south. The map features various geographical features including the Pyrenees and Alps mountain ranges, and several major river systems. A list of five rivers is provided on the left, and a number '7.' is placed in the upper central region of the map.

7.

1. Garonne

2. Seine

3. Rhône

4. Rhin

5. Loire

A satellite map of France and its surrounding regions, including the British Isles to the west, the Atlantic Ocean to the southwest, and the Mediterranean Sea to the south. The Alps are visible in the southeast, and the Pyrenees are visible in the south. The text is overlaid on the map.

8.

1. La Loire prend sa source dans les Alpes.

**Faux** – le Massif central

2. La Seine se jette dans la Méditerranée.

**Faux** – la Manche

3. La France a une frontière avec l'Autriche.

**Faux** – Espagne, Italie, Suisse, Allemagne, Luxembourg, Belgique

4. Les Pyrénées sont au sud de la France.

**Vrai**

A satellite map of Europe showing various geographical features like coastlines, rivers, and mountain ranges. The text is overlaid on the map.

8.

5. La Normandie est un département.

**Faux** – une région

An aerial photograph of a mountainous landscape. In the upper left, a large, dark blue lake is visible, surrounded by green and brown terrain. To the right of the lake, a large, snow-capped mountain peak rises above the surrounding forested hills. The overall scene is a mix of natural beauty and rugged terrain.

9.

1. Dans l'ensemble, le climat français est **tempéré.**
2. La **côte d'Azur** est réputée pour la douceur de son climat toute l'année.
3. En **Bretagne** il pleut souvent.
4. Le **sirocco** n'est pas un vent méditerranéen.
5. L'hiver, il fait très froid **en haute Savoie.**

A satellite map of France and its surrounding regions, including parts of the United Kingdom, Ireland, and the Iberian Peninsula. The map shows the English Channel, the Atlantic Ocean, and the Mediterranean Sea. The French coastline is clearly visible, along with major cities and geographical features like the Alps and the Pyrenees.

# 10.

- Paris est la **capitale** de la France.
- Il y a 60 millions d'**habitants** en France.
- La France a une **frontière** avec l'Espagne.
- Le Rhône est un **fleuve**.
- La Provence est une **région**.

A satellite image of France and its surrounding regions, including parts of the British Isles, the Atlantic Ocean, the Mediterranean Sea, and North Africa. The terrain is visible with green land, blue water, and white snow-capped mountains in the south and east.

# Sources - Zdroje

- Tests Cle de Civilisation (niveau débutant, intermédiaire), Stéphanie Anthony
- Tests d'évaluation de la Civilisation Progressive du français (niveau débutant,intermédiaire) Ross Steele, CLE INTERNATIONAL,2004
- <http://www.cartesfrance.fr/satellite/>

<b>Registrační číslo projektu</b>	<b>CZ.1.07/1.5.00/34.0951</b>
<b>Šablona</b>	<b>III/2 INOVACE A ZKVALITNĚNÍ VÝUKY PROSTŘEDNICTVÍM ICT</b>
<b>Autor</b>	<b>Veronika Holická</b>
<b>Název materiálu</b>	<b>6. Zeměpisná charakteristika Francie – Kvíz</b>
<b>Ověřeno ve výuce dne</b>	<b>5. 11. 2012</b>
<b>Předmět</b>	<b>Francouzský jazyk</b>
<b>Ročník</b>	<b>3.A</b>
<b>Klíčová slova</b>	<b>Zeměpisná charakteristika, řeky, moře, hory, sousední země, města, ostrovy, poloha, podnebí</b>
<b>Anotace</b>	<b>Tato prezentace slouží jako úvod ke konverzačnímu tématu „Geografie Francie“. Formou lehkých úkolů (doplňování, přiřazování, výběru, ...) si žáci ověřují zeměpisné znalosti o Francii.</b>
<b>Metodický pokyn</b>	<b>prezentace je určena jako výklad do hodiny i jako materiál určený k samostudiu</b>
<b>Počet stran</b>	<b>26</b>
<b>Pokud není uvedeno jinak, použitý materiál je z vlastních zdrojů autora.</b>	